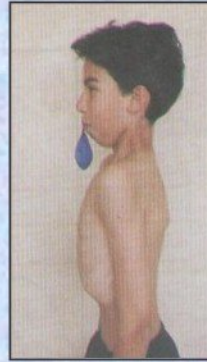


5 / ألون البطاقة الصحيحة :

حالة شهيق




حالة زفير



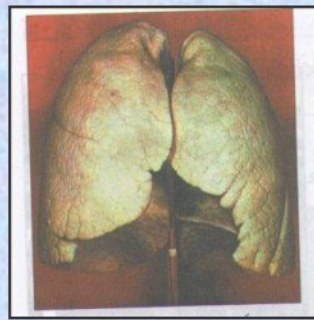
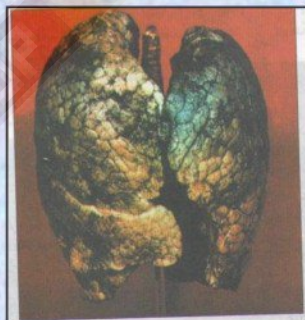
6 / أضع علامة (X) أمام الجمل الصحيحة:

- خلال الشهيق يدخل الهواء إلى الجسم .
- الهواء الملوث مفيد لجسم الإنسان .
- إشعال النار خطير و ملوث للهواء .

7 / أشطب ما يضر الجهاز التنفسي



8 / أضع علامة (X) تحت رنتي شخص يدخن



امضاء التلميذ :

امضاء الإدارة :



النقطة:

10

1 / أصل الحيوان بغذائه



2 / اكتب : لآحم - عاشب - قارت:



3 / أضع علامة () تحت السلسلة الغذائية الخاطئة :

عشب ← قنية ← ثعلب



فأر ← جزر ← بومة



4 / أجيب ب : نعم أو لا



- الحيوان العاشب يتغذى بأغذية من أصل نباتي



- الحلزون حيوان لآحم .



- القنفذ حيوان لآحم.

1.5

2

1.5