



# الأسدوس الأول

النقطة	الإدارة	الولي
10		



المادة الرياضيات


الاسم: .....

التاريخ: .....

الفوج: .....

المستوى: الأولى ابتدائي

تعرف و تميز مفاهيم تنظيم الفضاء .



• أعلى الشجرة

• يوجد الكلب

• أسفل الشجرة

/ 2



3 / أ - ألون الكرة الموجودة على الطاولة .



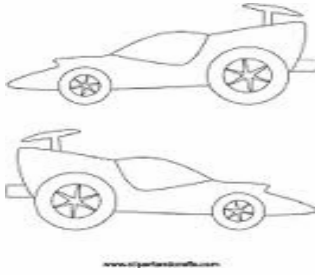
ب - أرسم كرة تحت الكرسي :

4 / أرسم قرصا داخل الكيس :





5 / ألون السيارة التي تتجه نحو اليمين :



0.75

علي هند



تعرف الطول - مقارنة و ترتيب الأطوال .

6 / أصل بخط :

• أقصر من هند

علي •

• أطول من هند

0.75

7 / ألون أطول شريط بالأحمر:

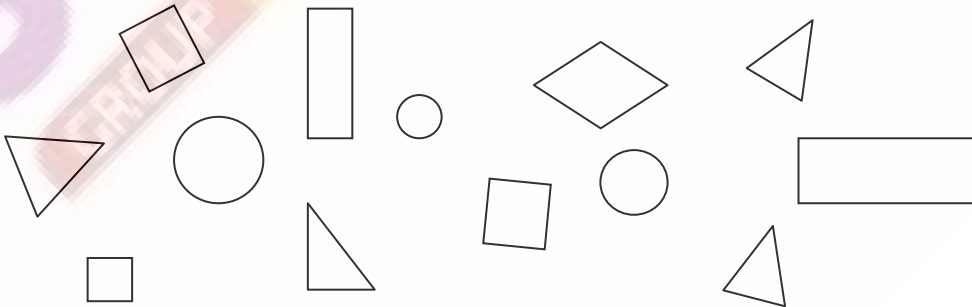


0.75



تعرف الأشكال الهندسية .

8 / ألون الأقراص بالأحمر و المثلثات بالأزرق .




1



تعرف وتصنيف المجموعات المتقاربة

9 / أصل بخط :



• 2



• 3



• 5

10 / أحيط الجواب الصحيح :



الهدايا بقدر الأطفال : نعم لا

