

السنة: 2015-2016
ابتدائيالمراقبة المستمرة الأولى (الأسدوس 2) المادة: الرياضيات
المستوى: /التاريخ:
الاسم العائلي والشخصي:

إمضاء الولي:

إمضاء الإدارة:

النقطة:


10

1 / أملاً الجدول




.....	14
.....	32
خمسون	..
ثلاثة و عشرون	..

2 / أصل بخط




20



8

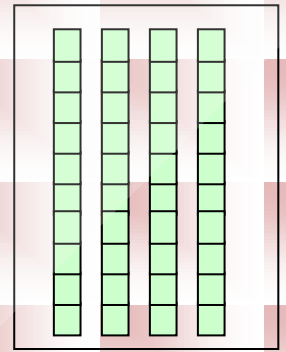
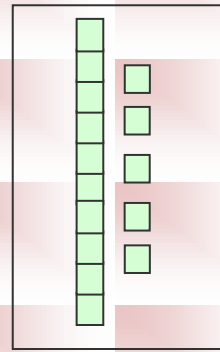
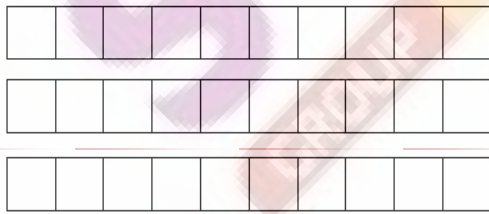


13



11

4 / ألون 23 مربعا



$10 + 4 = \dots\dots\dots$

$40 + 5 = \dots\dots\dots$

$30 + 10 = \dots\dots\dots$

$10 + 10 + 10 + 2 = \dots\dots\dots$

5 / أحسب :

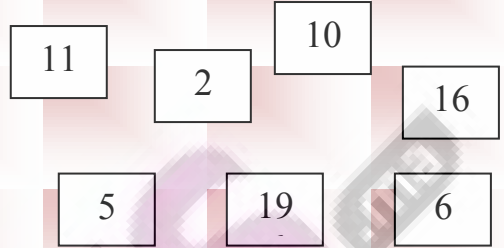
1

7 / أكتب التوقيت بالنسبة لكل ساعة.



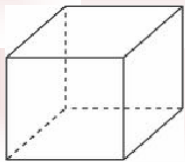
06 : 00

6 / ألون بطاقة أكبر عدد.

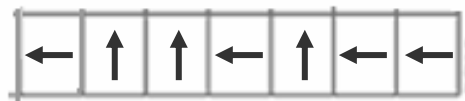
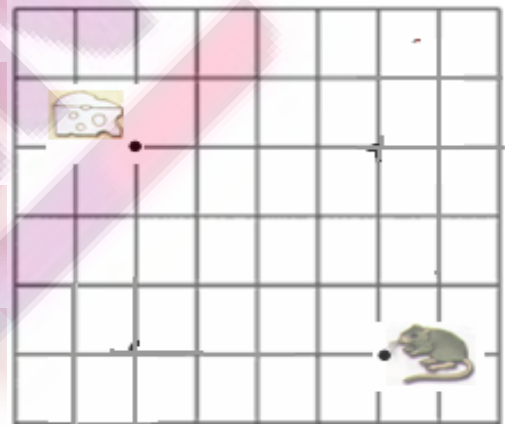


1.75

9 / أحيط بخط المجسمات التي تتدحرج



8 / أرسم المسار الذي سيسلكه الفار للوصول إلى الجبن



1.75

10 / ألون :- بالأحمر السيارة الأولى.

- بالأزرق السيارة الرابعة.

1

