

الأسدوس الثاني



المادة الرياضيات

النقطة	الإدارة	الولي
10		

الاسم:

التاريخ:

الفوج:

المستوى: الأولى ابتدائي

1 / أصل بخط أو أكمل.



أربعة وعشرون

.....

سبعة و ثلاثون

ثلاثة عشر

37

..

24

50

3 / ألون 25 مربعا



2 / أكتب بالأرقام:



4 / أملأ الفراغ بما يناسب:

○ ○ ○

○ ○ ○

○ ○ ○

○ ○ ○

... + ... + ... =

... + ... + . =

... + . =

2

1.5

1.5

5 / أحسب :

$10 + 5 = \dots\dots\dots$

$10 + 10 + 10 + 2 = \dots\dots\dots$

$40 + 3 = \dots\dots\dots$

$20 + 10 = \dots\dots\dots$




6 / أصل بخط :

السابعة

السادسة

الثامنة

تشير الساعة إلى



8 / أملأ الساعة الإلكترونية :





..... :

7 / أكتب التوقيت بالنسبة لكل ساعة

04 : 00



9 / أرسم المسار الذي سيسلكه الطفل للوصول إلى الموزة :



10 / ألون المجسمات التي تتدرج

