

النقطة:


10

إمضاء الإدارة:

إمضاء الولي

1 / أصل بخط أو أكمل.

2 / أكتب بالأرقام :

6 وحدات و 5 عشرات .
.....4 عشرات .
.....

90

35

.....

53

خمسة و ثلاثون

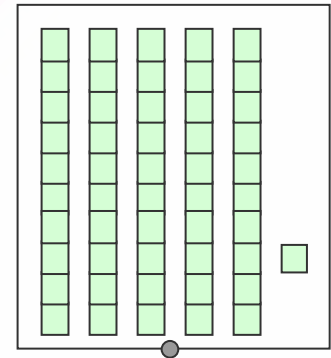
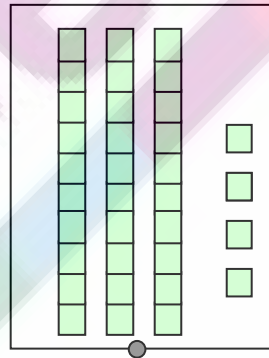
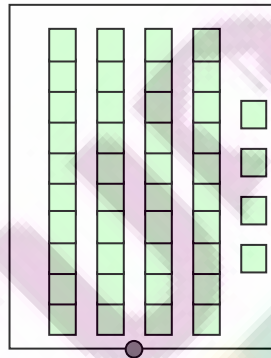
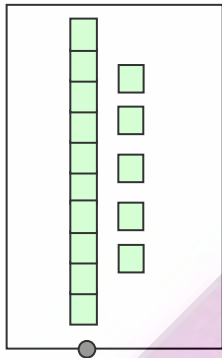
ثلاثة و خمسون

.....

اثنان و ثمانون

1.5

3 / أصل بخط



34

51

44

15

1

4 / أحسب :

$$50 + 3 = \dots\dots\dots$$

$$30 + 30 = \dots\dots\dots$$

$$20 + 20 + 10 = \dots\dots\dots$$

$$60 + \dots = 62$$

1



5 / أقرن باستعمال الرمز المناسب : < أو > أو =



$20 \dots 54$

$99 \dots 35$

$60 + 8 \dots 68$

$82 \dots 28$

6 / أرتب الأعداد التالية من الأصغر إلى الأكبر :

45 ; 6 ; 38 ; 13 ; 90

..... < < < <

7 / أنجز:

$$\begin{array}{r} 25 \\ + 15 \\ \hline \end{array}$$

$$\begin{array}{r} 54 \\ + 30 \\ \hline \end{array}$$


$$\begin{array}{r} 32 \\ + 12 \\ \hline \end{array}$$

.....

.....

.....

8 / أحسب المبلغ الذي يملكه كل طفل



أحمد

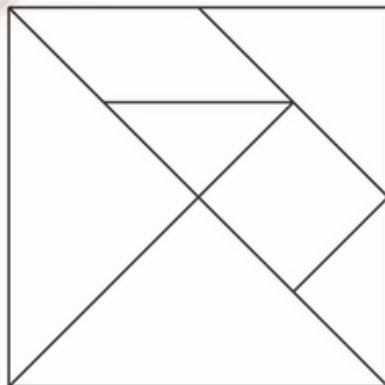

كريم

علي

من يستطيع شراء الحلوى ؟



50 سنتيما



9 / ألون : المثلثات بالأحمر

المربع بالأزرق