

بسم الله الرحمن الرحيم




المستوى الثاني ابتدائي

الاسم الكامل: .....

التاريخ: .....

المراقبة المستمرة  
المادة: النشاط العلمي

1. حدد مصدر أو مستقبل الصوت لما يلي بوضع كلمة مصدر أو مستقبل : ( 2.5 ن )

2. كيف تصدر الأصوات من آلات الموسيقى التالية؟ مستعملا: ( النقر-الضغط-النفخ-القرع-الحك-الدق ) ( 2 ن )

آلة العود: ..... الطبل: ..... الدف: ..... الكمان: .....

البيانو: ..... المزمارة: ..... السكسوفون: ..... القيثارة: .....

3. حدد وسط الانتشار في الحالات التالية باستعمال: (وسط غازي - وسط سائل- وسط صلب) ( 2 ن )

صوت السمك في البحر..... جهاز التلفاز في المنزل.....

الهاتف الثابت..... الهاتف المتنقل.....

4. رتب كلمات الجمل التالية ( 3.5 ن )

أ- هذه - الأصوات- التأثير - تنوع - وطرق- بتنوع - على - المصادر مصادرها.

ب- جميع - الاتجاهات - في- ينتشر - الصوت.

ج- شدته- بارتفاع - سماع- يزداد - الصوت.