





المؤسسة	الموسم الدراسي	2016.2015
الاستاذ	المستوى	الثاني
اسم المتعلم	المادة	النشاط العلمي
الاختبار الثاني – الدورة الثانية		
النقطة المحصل عليها		
ملاحظات الأستاذ		







1. أضع علامة (X) أمام الإجابة الصحيحة : (4 نقط)

<input type="checkbox"/>	أثناء الكتابة أمسك القلم بالوسطى والبنصر
<input type="checkbox"/>	أثناء المشي تكون حركات الأطراف سريعة و بطيئة أثناء الجري
<input type="checkbox"/>	توجد بيدي عدة مفاصل تساعدني على مناولة الأشياء
<input type="checkbox"/>	الجلزون يمشي
<input type="checkbox"/>	يتحرك جسم الثعبان في شكل تموجات
<input type="checkbox"/>	الأطراف تساعد على القفز

2. أتمم كتابة أسماء الأعضاء التي تساعد على التنقل و أصل بخط كما في المثال : (3 نقط)

			
.....	الأطراف
يجري	يعوم	يزحف	يقفز

3. أضع علامة X في الخانة المناسبة حسب نوع التنقل (3 نقط)

						
						القفز
						العوام
						الطيوان
						الزحف