

السنة: 2016-2017

المراقبة المستمرة الاولى (الأسدس الثاني) المادة: الرياضيات

التاريخ: / المستوى: الثانية ابتدائي

الاسم العائلي والشخصي:

إمضاء الولي:

إمضاء الإدارة:

النقطة:

أضع وأنجز:

1

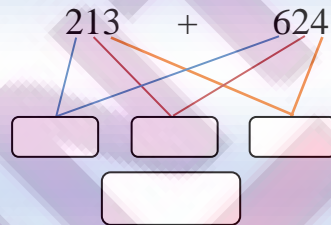
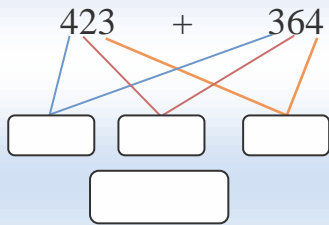
$568 + 143$

$324 + 277$

$105 + 320$

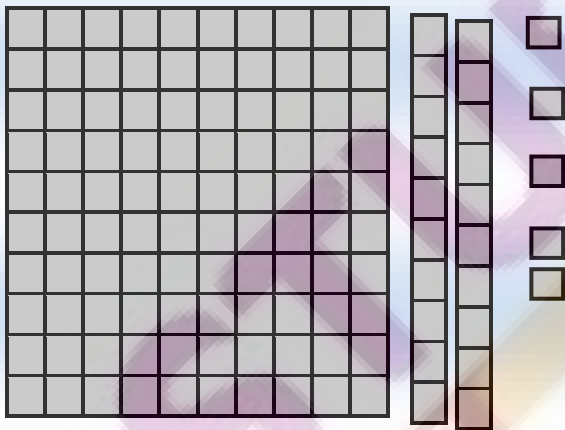
أتمم:

2



إملا الجدول و اكتب العدد المناسب في الخانة:

3



$325 - 213$

الوحدات	العشرات	المئات
.....

العدد هو
.....

أضع وأنجز:

4


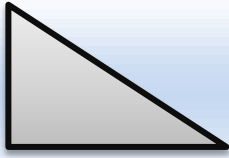
$426 - 324$

أكتب أربعة أعداد مكونة من 3 أرقام باستخدام الأرقام : 6 , 1 , 5

5

حدد الزاوية القائمة في الأشكال التالية :

6



1,25



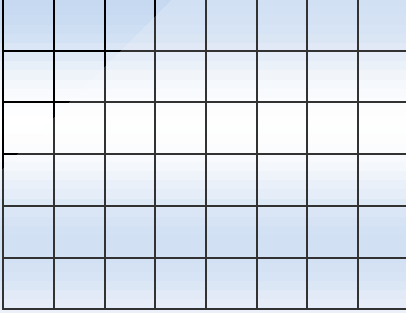
أرسم مربعا ومستطيلا ومثلثا :

7

المثلث

المستطيل

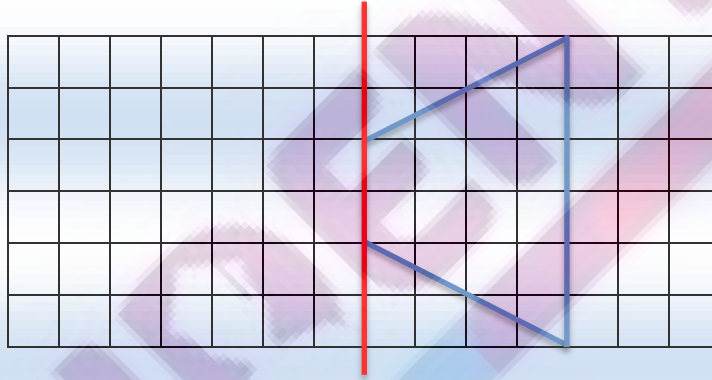
المربع



0,75

ارسم مماثل الشكل:

8



1

مسألة .

9

دخل أحمد محلا تجاريا فلاحظ اللعب التالية :



120 درهما



60 درهما



150 درهما



750 درهما

أ - حدد أعلى سلعة.

ب - اختار الدراجة و الدب . أحسب ثمن المشتريات :

1,5

وفقكم الله