

## النشاط العلمي

المراقبة المستمرة 1 الأسدوس الأول


الاسم الكامل:  
التاريخ:  
الفوج:  
القسم: الثالث ابتدائي

الملاحظة	الإدارة	الأب/ الولي
10		



أحيط البذور.

1



1

2 أكتب الاسم المناسب أمام كل سهم: ساق - أوراق - جذور

2



1.5

3 أجيب ب : نعم أو لا

3



تعطي البذور عند زرعها نباتات حية جديدة.



تنتشر البذور بواسطة الرياح فقط.



تنتشر البذور بواسطة الرياح أو الماء أو الحيوانات أو الإنسان.

1.5

4 الألاحظ ثم احدد:

4


في أي اتجاه ينمو الجذر؟

..... ينمو الجذر

في أي اتجاه ينمو الساق؟

..... ينمو الساق

1




5 أضع علامة (x) في الخانة المناسبة

1.5

زيت	دقيق	مقص	حليب	قلم	حديد	
						جسم سائل
						جسم صلب

6 أملأ الجدول

6




رمل خشب مسحوق السكر كتاب مسمار نشارة خشب

1.5

أجسام صلبة غير متراسة	أجسام صلبة متراسة
.....	.....
.....	.....
.....	.....

7 الألاحظ ثم أكمل الجملة بما يناسب:

7



1

..... ألاحظ أن الماء

8 أكمل بما يناسب : متراس - غير متراس

8

..... مسحوق السكر يأخذ شكل الإناء الذي يوجد فيه فهو جسم صلب