


الأسدوس الأول



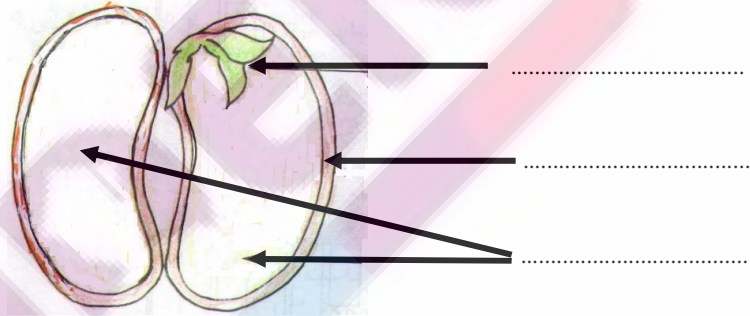
المادة: النشاط العلمي

الولي	الإدارة	النقطة
		10

1 أضع علامة (x) تحت البذور.



2 أكتب ما يناسب مكان النقط: فلتان - قشرة - نبيطة صغيرة




4 ألون:

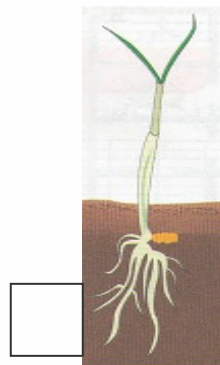
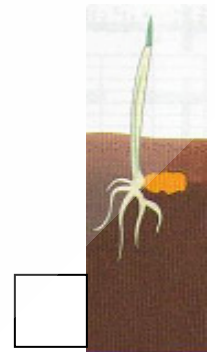
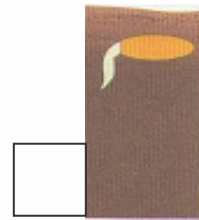

الجذور بالبني.

الساق بالأصفر.

الوريقات بالأخضر.



3 أرتب مراحل إنبات بذرة قمح بترقيمها من 1 إلى 4.



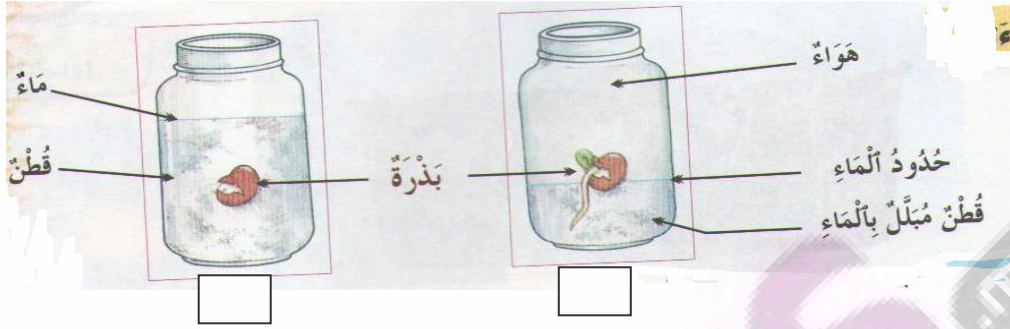
5 أكمل بما يناسب.

5

ينمو الجذر نحو و ينمو الساق نحو

1

6) ألاحظ ثم أضع علامة (X) تحت المناولة التي تثبت فيها البذور.



0.75

7) ألاحظ ثم أملأ الجدول.

أجسام سائلة	أجسام صلبة
.....
.....
.....
.....

رمل

حليب

قلم

خشب

زيت

مقص


1.5

8) أحيط الأجسام الصلبة المتراسة.

مسحوق السكر




ممحاة



مطرقة



كتاب



مسمار



نشارة الخشب



2

9) أصل بخط.

مفراص

غير متراس

- مسحوق السكر يأخذ شكل الإناء الذي يوجد فيه فهو جسم صلب

0.5