



## الأسدوس الثاني

الولي	الإدارة	النقطة
		10

المادة: النشاط العلمي

الاسم: .....


الفوج: .....

التاريخ: .....

المستوى: الثالثة ابتدائي



1 أكتب الاسم المناسب أمام كل سهم.



2

2 أصل كل عنصر في الدارة الكهربائية باسمه.



1

بطارية

قاطع كهربائي

مصباح

أسلاك التوصيل

3 أضع علامة ( X ) في البطاقة المناسبة.

خطأ

صحيح



☞ الحديد موصل كهربائي



☞ العقبة و القعيرة هما مربطتا المصباح



☞ يضيء المصباح إذا كان القاطع مفتوحا


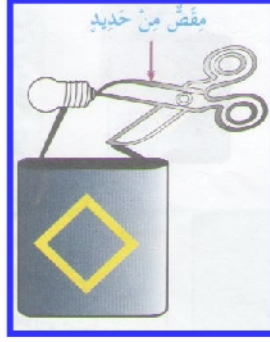



☞ الخشب عازل كهربائي.



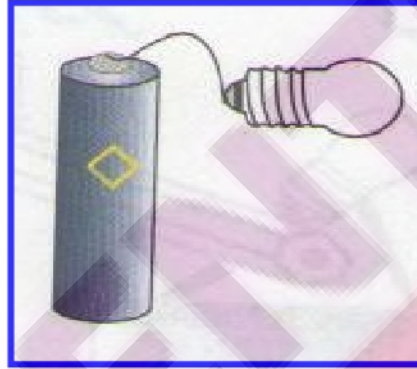
1

4 ألون بالأصفر المصباح أو المصابيح المضيئة في التراكيب التالية.



1.5

5 أتمم الرسم ليضيء المصباح.



1

6 أتمم الجملة بالكلمة المناسبة:

شفاف - معتم

الخشب جسم .....

الزجاج الأملس جسم .....

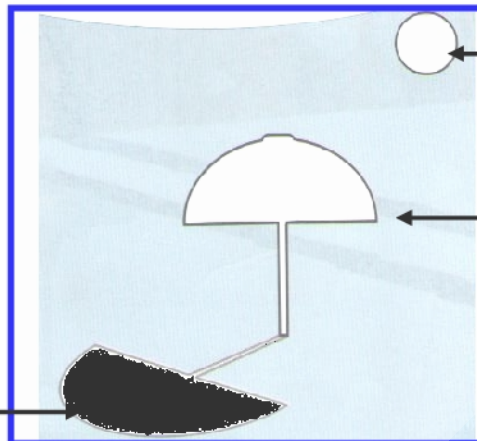
2

7 أكمل بما يناسب : لاينفذ عبره الضوء - ينفذ عبره الضوء

الجسم الشفاف .....

الجسم المعتم .....

8 أكتب الاسم المناسب أمام كل سهم.



1.5