

الرياضيات

المراقبة المستمرة 1 الأسدوس الأول

الاسم الكامل:
التاريخ:
الفرقة:
القسم: الثالث ابتدائي

الملاحظة	الإدارة	الأب/ الوالي
10		

1/ أصل بخط

ألف	216
مئتان وستة عشر	1400
ثلاثة آلاف ومئة وسبعة	3 107
ألف وأربع مئة	1 000

2/ أكتب العدد المكون من

7 وحدات و5 عشرات و6 مئات و3 آلاف :

126 عشرة 9 وحدات :

3/ كضع الرمز المناسب : < أو > أو = مكان النقط

16 143

(13 x 10) + 6 136

209 508

100 + 56 151

4/ أكمل

300 + 8 =

1 000 + 200 + 50 + 7 =

(6 x) + (. x 100) + (. x 10) + 2 = 6 28.

5/ لاحظ أثمان الملابس



150 درهما



195 درهما



230 درهما



85 درهما



225 درهما

أ- حدد ثمن أعلى لباس:

ب- رتب الأثمنة من الأصغر إلى الأكبر باستعمال الرمز المناسب

6/ أضع و أنجز مايلي

$$345 + 456$$

$$215 + 132$$

$$458 + 134$$

.....

.....

.....

.....

1.5

7/ اشترت زينب لعبة بثمن 250 درهما ودمية بثمن 35 درهما

كم دفعت زينب للبائع؟

.....


.....

0.75

9/ أرسم مستقيما متعامدا مع المستقيم الأسود



8/ أضع علامة تحت الزاوية القائمة



1

10/ أصل بخط



تشير الساعة إلى

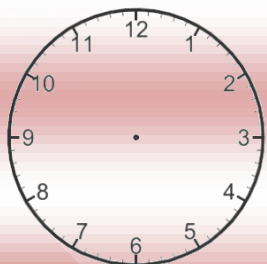
0.25

- الخامسة والنصف
- الخامسة تماما
- الخامسة والربع

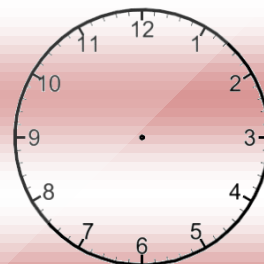
16 : 30

11/ غادرت مريم منزلها على الساعة العاشرة صباحا لزيارة جدتها وعادت على الساعة

ارسم عقربي الساعتين التاليتين :



وقت العودة إلى البيت



وقت المغادرة

1