


مدة الانجاز : ساعة	اختبار كتابي في مادة الاجتماعيات المستوى : الرابع	 المملكة المغربية وزارة التربية الوطنية والتعليم العالي وتكوين الأطر والبحث العلمي الأكاديمية الجهوية للتربية والتكوين جهة تادلا أزىلال نيابة إقليم أزىلال
الاسم والنسب :		
الرقم :		
الموضوع : 1/1		

أولا : التاريخ

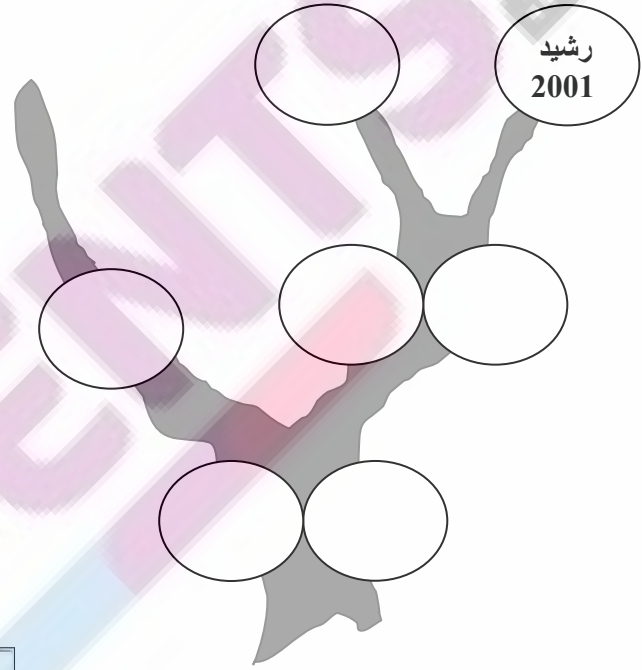
1- أكمل بتعبئة شجرة العائلة بوضع أفراد أسرة الطفل (2003) رشيد وسنوات ميلادهم في هذه الشجرة معتمدا على الجدول التالي

1963	الأم فاطمة اليوسفي	1926	الجد محمد مخلص
1996	الأخت مريم مخلص	1934	الجدة أمينة الداودي
1975	العم إبراهيم مخلص	1960	الأب مصطفى مخلص

2- أجب ب "صحيح" أو "خطأ"
- ينتمي الطفل رشيد وجده وأبوه إلى جيل واحد


- تاريخ ميلاد الجد محمد مخلص أحدث من تاريخ ميلاد الأم فاطمة اليوسفي

- الطفل رشيد في عقده الأول



ثانيا : الجغرافيا

لاحظ الصورة وأجب على الأسئلة
1 - ماذا تمثل الصورة؟



2 - ماهي أسماء مكونات الصورة:

- 1 - -2
3 - -4 -5

3 - أذكر وظيفة كل مرفق من المرافق التالية القيادة : المسجد:

ثالثا التربية على المواطنة :

- 1 - أعبّر ممر الراجلين أثناء إشارة الضوء الأخضر للسيارات :
2 - لا أهتم بالرياضة لعدم فائدتها
3 - يختلف الناس في سلامة جسمهم وعقلهم

أجب ب "صحيح" أو "خطأ"