

الاسم:

القسم: الرابع ابتدائي / الفوج: B / التاريخ:



النقطة	إمضاء الأب أو الولي	إمضاء الإدارة

**1 ضع و أنجز**

9876 +5738
8721-7521
45x14

2 - أ - ضع خط تحت مضاعفات 9

82 ; 72 ; 17 ; 27 ; 54 ; 89

ب- أوجد مضاعفات العدد 7 المحصورة بين 30 و 60
ج- العدد 720 مضاعف العدد 9 لماذا؟

3 أتمم المتساويات الآتية:

$$75 = (7 \times \dots) + \dots$$

$$65 = (8 \times \dots) + \dots$$

4 - بدأت عطلة نهاية الطور الأول من الموسم الدراسي يوم الأحد 5 فبراير 2006 و انتهت يوم الأحد 19 فبراير 2006

- كم يوم دامت العطلة
- حدد تاريخ استئناف الدراسة:

5 - أتمم

- نكتب الساعة 23 h أو الساعة ليلا
- نكتب الساعة أو الساعة 3 زوالا

6 - حول ما يلي:

$$22\text{Min} = \dots \text{S-}$$

$$2 \text{ h} = \dots \text{min-}$$

$$12\text{h}15\text{min} = \dots \text{min-}$$

7- ذهبت رب أسرة الى متجر الأثاث في الساعة الخامسة زوالا، فاشترى غسالة بثمان 2000 درهما وثلاجة، واشترت طاولة بثمان 500 درهما و6 كرسي بثمان الواحد 130 درهما

اقرأ المسألة جيدا ثم أتمم ملء الجدول:

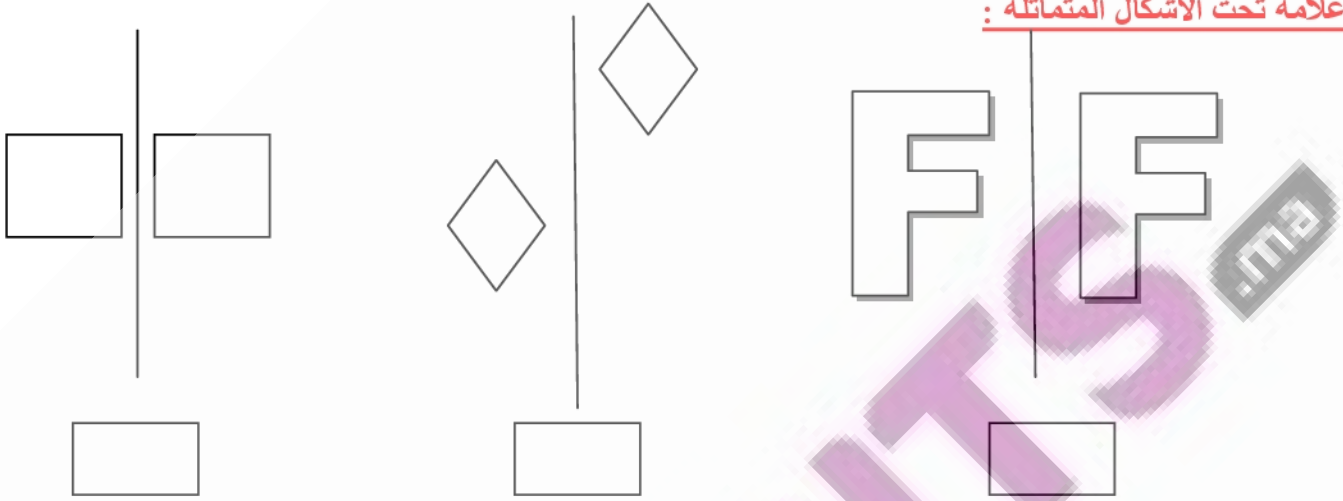
المعطيات الأساسية	المعطيات الزائدة	المعطيات الناقصة

هندسة:

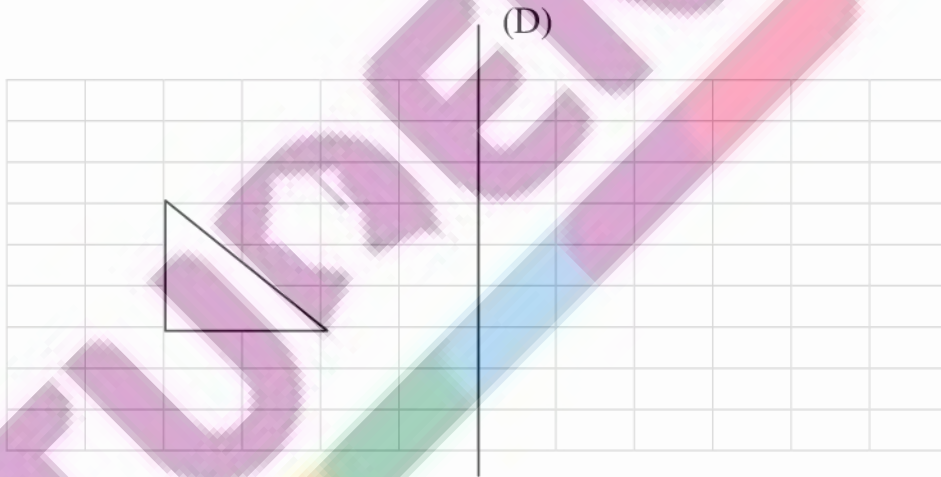
I

أ- اذكر خاصية واحدة من خصائص التماثل المحوري:

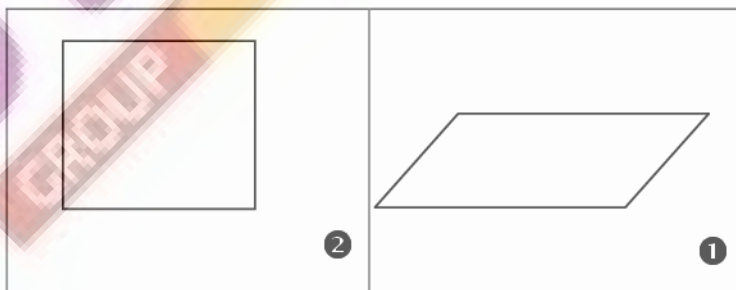
ب- ضع علامة تحت الأشكال المتماثلة :



ج- ارسم مماثل الشكل التالي بالنسبة لمحور التماثل (D)



II - ضع علامة (X) في الخانات المناسبة:



المضلع	كل ضلعين متقابلين فيه متوازيان	قطران يتقاطعان في المنتصف	قطران متقاسيان	قطران متعامدان	له أربع زوايا قائمة	الاسم
1						
2						