



إمضاء الولي:

إمضاء الإدارة:

النقطة:

$$(8934-2165)+5381$$

$$925 \times 23$$

$$9317 \div 7$$



1 ضع وأنجز.

2 أكتب الأعداد الآتية بالحروف و الأرقام

.....:ثمان وحدات و اثنان وخمسون جزءا من المئة

.....:5,06

.....:أربعة و أربعون عشرا:

3 رتب الأعداد الآتية ترتيبا تناقصيا

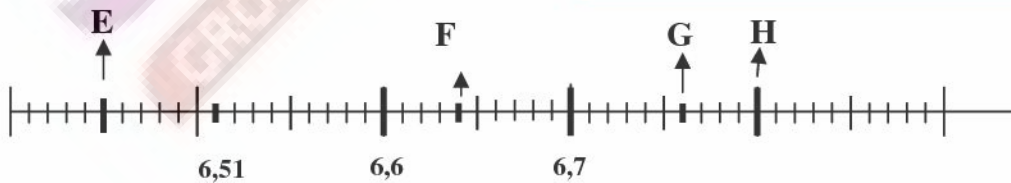
4,05 / 5,4 / 5 / 4,5 / 5,04

4 حول الأعداد الآتية الى الوحدة المطلوبة

$$6,08 \text{cm} = \dots \text{dm}$$

$$29 \text{m} = \dots \text{hm}$$

5 لاحظ المستقيم ثم أكتب الأعداد التي توافق كل نقطة



E →

F →

G →

H →

مسألة

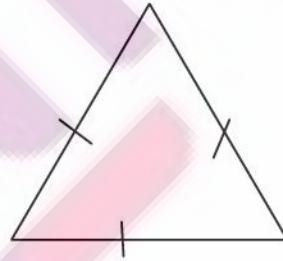
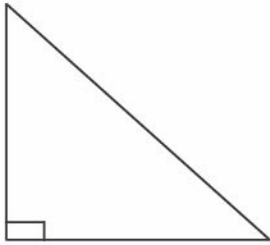
6

أراد بائع كتب أن يوزع 583 كتابا على 12 خزانة حيث تسع كل خزانة عدد الكتب

- ما هو عدد الكتب الذي سيضعه البائع في كل خزانة
- ما هو عدد الكتب المتبقية

سم المثلثات الآتية

7



أرسم

8

*أرسم مثلثا متساوي الأضلاع طول ضلعه 3cm

*أرسم مثلثا قائم الزاوية و متساوي الساقين