

م/م اولاد بلقاسم فرعية المعيزية

التاريخ:

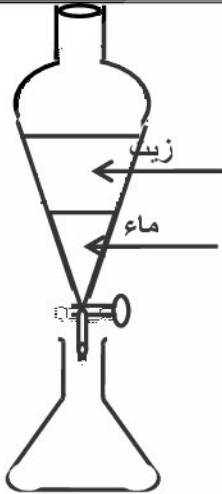
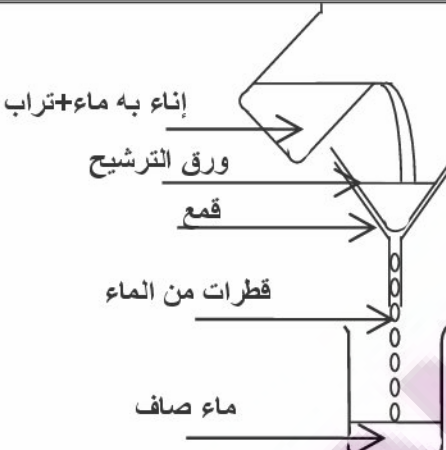
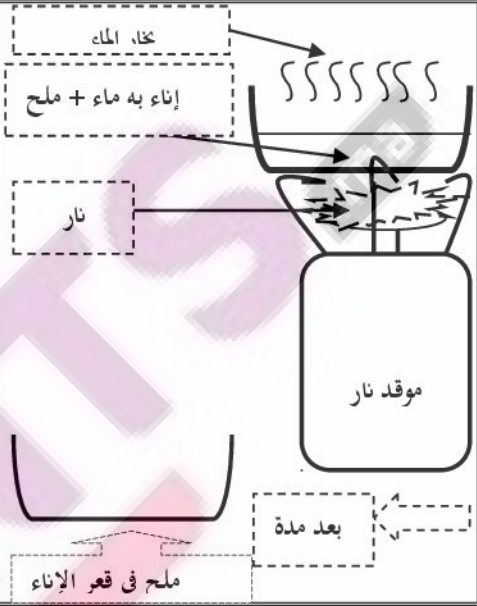
فرض 1 في النشاط العلمي

الاسم الشخصي:

التبويب:

المستوى: الخامس

لا حظ الرسوم الثلاث لطرق فصل الخلائط واكتب تحت كل طريقة اسمها 1.5 ن

الطريقة الثالثة	الطريقة الثانية	الطريقة الأولى
		
عملية	عملية	عملية

1. أكمل الجمل التالية بما يناسبها انطلاقا من الرسوم أعلاه 1.5 ن

- ☞ تستعمل الطريقة الأولى لفصل الخلائط.....
- ☞ تستعمل الطريقة الثانية لفصل الخلائط.....
- ☞ تستعمل الطريقة الثالثة لفصل الخلائط.....

2 ن

3. أتم العبارة التالية بما يناسبها مما يلي :

غير متجانس - متجانس - ماء الجير - غاز ثنائي أكسيد الكربون

- ☞ المشروبات الغازية خليط يتكون..... و المشروب الغازي ، نكتشف وجود..... باستعمال.....

2 ن

4. أتم العبارات بما يناسبها مما يلي :

يمكن تمييز مكوناته بالعين المجردة - لا يمكن تمييز مكوناته بالعين المجردة

- ☞ الخليط غير المتجانس هو الذي
- ☞ الخليط المتجانس هو الذي

3 ن [0.5 × 6

النشاط الثاني: اربط بخط ما يلي :

5.

مبيض	♦
قضيبي	♦
قناة منوية	♦
رحم	♦
خصية	♦
فرج	♦

♂ عضو توالدي ذكري	♦
♀ عضو توالدي أنثوي	♦