



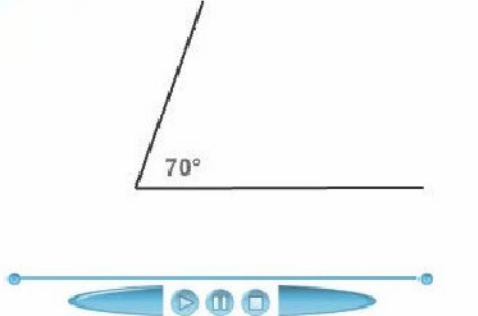


زاوية مستقيمة قياسها $180^\circ$	
زاوية منفرجة قياسها أكبر من $90^\circ$	
زاوية قائمة قياسها $90^\circ$	
زاوية حادة قياسها أقل من $90^\circ$	
أستعمل المسطرة و المنقلة لرسم زاوية قياسها: $70^\circ$	
أستعمل المنقلة لقياس الزوايا قياس هذه الزاوية هو : $112^\circ$	