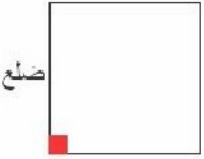


	<p>محيط الرباعي ABCD هو</p> $AB+BC+CD+DA$
	<p>محيط المربع هو</p> $4 \times \text{الضلع}$
	<p>محيط المستطيل هو</p> $2 \times (\text{الطول} + \text{العرض})$
	<p>محيط متوازي الأضلاع هو</p> $AB+BC+CD+DA$