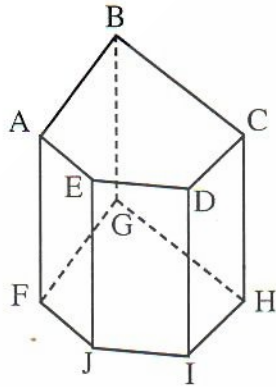
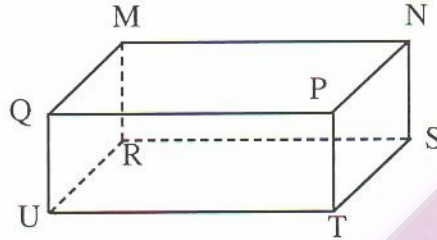


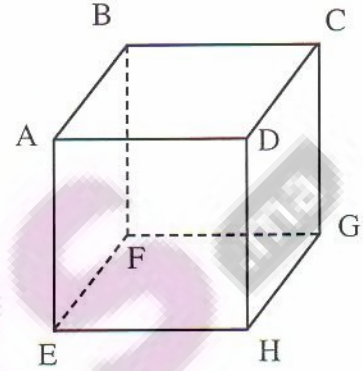
1 لاحظ الأشكال التالية ثم أتمم ملء الجدول التالي :



(c)



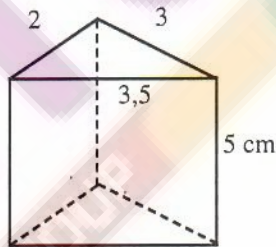
(b)



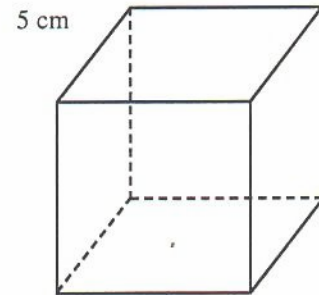
(a)


عدد الرؤوس	عدد الأوج	عدد الأحرف	اسمه	
				المجسم (a)
				المجسم (b)
				المجسم (c)

3 الشكل التالي يمثل موشورا قائما ثلاثي القاعدة، انشره.



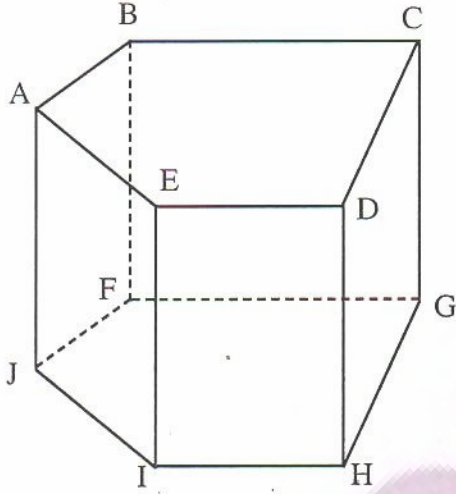
2 الشكل التالي يمثل مكعبا طول حرفه 5 cm ؛ انشره.



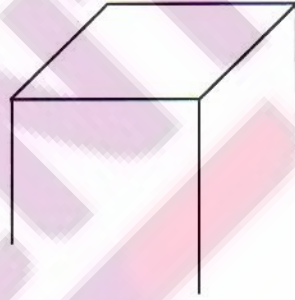


أسطوانة قائمة

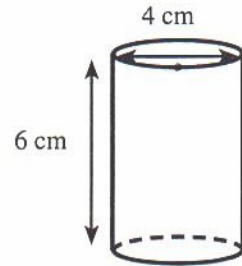
* 7 ABCDEFGHIJ موشور قائم :



5 أتمم الشكل للحصول على مجسم يمثل موشورا قائما :



6 الشكل أسفله يمثل أسطوانة قائمة. انشرها.



أجب بـ "صحيح" أو "خطأ"

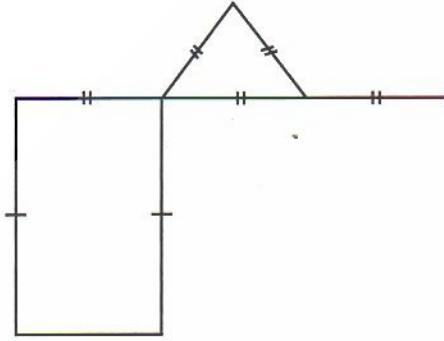
1 الوجه (ABFJ) مستطيل.

2 الحرفان [AB] و [AE] متعامدان

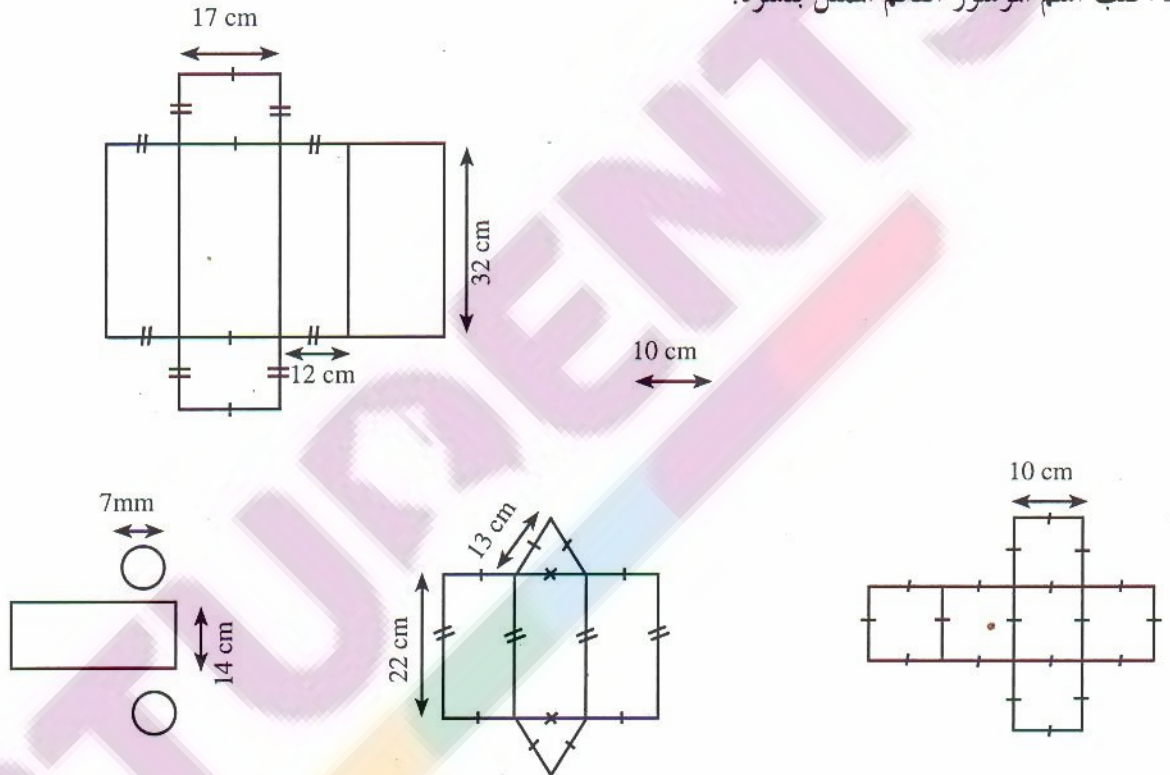
3 الحرفان [BF] و [FG] متعامدان

4 قاعدة الموشور هي (ABCDE)

5 الحرفان [CD] و [GH] متوازيان.



أكتب اسم الموسور القائم المثل بنشره.



ارسم نشرًا للأسطوانة القائمة :

