


السنة الدراسية : 2011/2012
مدة الإنجاز : ساعة وربع
الاسم :
رقم الامتحان :

الامتحان الموحد المدرسي – الأسدس الأول – لأقسام السنة السادسة ابتدائي
دورة يناير 2012
مادة الاجتماعيات

أولاً: التاريخ (8 ن)

1- رتب العصور التالية حسب قطار التاريخ: (2 ن)

العصر الحديث – العصر القديم – العصر المعاصر – العصر الوسيط



| | | | |
|-------|-------|-------|-------|
| | | | |
|-------|-------|-------|-------|

2- سجل المراحل والأحداث التاريخية في المكان المناسب لها: (6 ن)

| | |
|-------|--------------|
| عصور | عصور التاريخ |
| العصر | العصر |

ظهور الإنسان
.....

.....
8000 ق. م.

اختراع الكتابة
.....

ثانياً: الجغرافيا (5 ن)

3- ما هي الجغرافيا؟ (2 ن)

.....
.....

4- ضع علامة (X) أمام العبارات الصحيحة: (3 ن)

- تفيدني الجغرافيا في تعرف الظواهر الطبيعية فقط.
- تفيدني الجغرافيا في فهم العلاقة التي تربط السكان بمجالهم.
- تفيدني الجغرافيا في تحديد مواقع الأماكن التي أود زيارتها.

ثالثا: التربية على المواطنة (6 ن)

5- ما هي اتفاقية حقوق الطفل؟ (2 ن)

.....

6- ما هي الدول التي لم تصادق على اتفاقية حقوق الطفل؟ (1 ن)

.....

7- أتمم بما يناسب: (1.5 ن)

تتجلى قيمة اتفاقية حقوق الطفل في كونها، و.....،

..... و.....


8- صل بسهم كل حق بما يناسبه: (2.5 ن)

- | | | |
|-------------------|---|----------------|
| ● منع التعذيب. | ● | - حق البقاء. |
| ● اتخاذ القرارات. | ● | - حق الحماية. |
| ● التغذية. | ● | - حق المشاركة. |
| ● حرية التعبير. | ● | |
| ● الرعاية الصحية. | ● | |

الامتحان الموحد المدرسي – الأسدس الأول – لأقسام السنة السادسة ابتدائي
دورة يناير 2012
مادة الاجتماعيات (عناصر الإجابة)

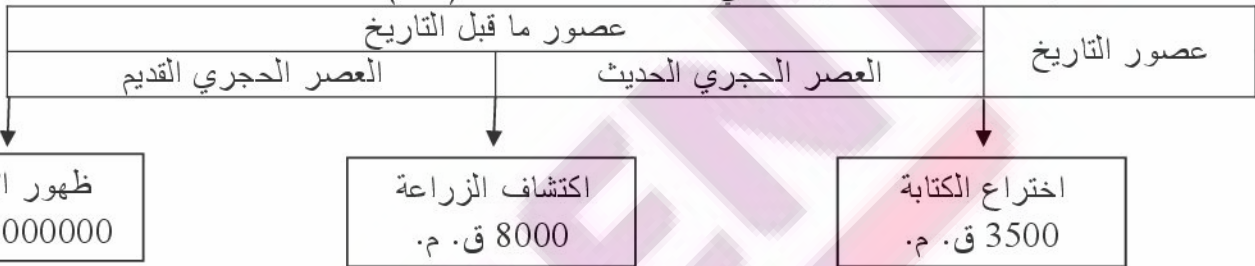
I- التاريخ (8 ن)

1- رتب العصور التالية حسب قطار التاريخ: (2 ن)



| | | | |
|--------------|--------------|--------------|---------------|
| العصر القديم | العصر الوسيط | العصر الحديث | العصر المعاصر |
|--------------|--------------|--------------|---------------|

2- سجل المراحل والأحداث التاريخية في المكان المناسب لها: (6 ن)



II- الجغرافيا (5 ن)

1- الجغرافية علم يهتم بدراسة المجال المحلي والوطني والعالمي، أي الأرض والظواهر الطبيعية والبشرية عليها، باتباع خطوات الملاحظة والوصف والتفسير. (2 ن)

2- ضع علامة (X) أمام العبارات الصحيحة: (3 ن)

- تفيدني الجغرافيا في تعرف الظواهر الطبيعية فقط.
- تفيدني الجغرافيا في فهم العلاقة التي تربط السكان بمجالهم. (X)
- تفيدني الجغرافيا في تحديد مواقع الأماكن التي أود زيارتها. (X)

III- التربية على المواطنة (6 ن)

1- اتفاقية حقوق الطفل هي اتفاقية أصدرتها هيئة الأمم المتحدة في 20 نونبر 1989 لفائدة أطفال العالم بهدف حماية حقوقهم وتحسين ظروف عيشهم. (2 ن)

2- الولايات المتحدة الأمريكية والصومال. (1 ن)

3- تتجلى قيمة اتفاقية حقوق الطفل في كونها ملزمة للدول الأطراف، وشاملة، وكونية (1.5 ن)

4- صل بسهم كل حق بما يناسبه: (2.5 ن)

- | | | |
|------------------------|---|----------------|
| ● منع استغلال الأطفال. | ● | - حق البقاء. |
| ● اتخاذ القرارات. | ● | - حق الحماية. |
| ● الرعاية الصحية. | ● | - حق المشاركة. |
| ● حرية التعبير. | ● | |
| ● التغذية. | ● | |