

ⵜⴰⴳⴷⴰⵏⵜ ⵜⴰⵎⴳⴷⴰⵢⵜ
ⵜⴰⵎⴳⴷⴰⵢⵜ ⵜⴰⵎⴳⴷⴰⵢⵜ ⵜⴰⵎⴳⴷⴰⵢⵜ ⵜⴰⵎⴳⴷⴰⵢⵜ
ⵜⴰⵎⴳⴷⴰⵢⵜ ⵜⴰⵎⴳⴷⴰⵢⵜ ⵜⴰⵎⴳⴷⴰⵢⵜ ⵜⴰⵎⴳⴷⴰⵢⵜ
ⵜⴰⵎⴳⴷⴰⵢⵜ ⵜⴰⵎⴳⴷⴰⵢⵜ ⵜⴰⵎⴳⴷⴰⵢⵜ ⵜⴰⵎⴳⴷⴰⵢⵜ



المملكة المغربية
وزارة للتربية الوطنية والتكوين المهني
والتعليم العالي والبحث العلمي
الأكاديمية الجهوية للتربية والتكوين لجهة الرباط ملاح للتفكير
المديرية الإقليمية للتفكير

الإسم:

رقم الامتحان:

الامتحان الاقليمي الموحد لنيل شهادة الدروس الابتدائية - دورة يونيو 2017 -

مدة الإنجاز: 2 h

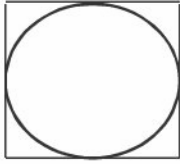

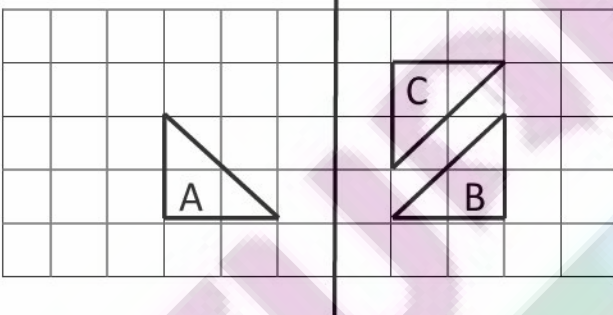

مادة الرياضيات

الأعداد و الحساب: (16 نقطة)

<p>2- ضع علامة (x) في المكان المناسب: $54,25 - 31 =$ ما هو فرق $23,25$ <input type="checkbox"/> $45,15$ <input type="checkbox"/> $67,25$ <input type="checkbox"/></p>	<p>1- ضع علامة (x) في المكان المناسب: ما هو مجموع $47,32 + 17,65 =$ $45,07$ <input type="checkbox"/> $64,97$ <input type="checkbox"/> $65,17$ <input type="checkbox"/></p>
<p>4- ماهي العملية المناسبة لمتساوية القسمة التالية: $64 = (5 \times 11) + 9$ $64 \div 5$ <input type="checkbox"/> $64 \div 11$ <input type="checkbox"/> $11 \div 5$ <input type="checkbox"/></p>	<p>3- إذا علمت أن $524 \times 16 = 8384$ ضع علامة (x) أمام العملية الصحيحة. $5,24 \times 1,6 = 838,4$ <input type="checkbox"/> $5,24 \times 1,6 = 8,384$ <input type="checkbox"/> $5,24 \times 1,6 = 83,84$ <input type="checkbox"/></p>
<p>6- ضع علامة (x) في المكان المناسب: $-- (- \div -) =$ $--$ <input type="checkbox"/> $--$ <input type="checkbox"/> $--$ <input type="checkbox"/></p>	<p>5- ضع علامة (x) في المكان المناسب: $-- + (- \times -) =$ $--$ <input type="checkbox"/> $--$ <input type="checkbox"/> $--$ <input type="checkbox"/></p>

<p>8 - سائق سيارة يسير بسرعة 70 mk/h. المسافة التي سيقطعها في 3 h هي 155 mk.</p> <p><input type="checkbox"/> خطأ <input type="checkbox"/> صحيح</p>	<p>7- صل بخط الأعداد المتساوية:</p> <p>• — • — • — • 1,5</p> <p>• — • — • — • 1,5</p>
---	---

الهندسة: (11 نقطة)

<p>10 8 mc</p>  <p>قياس شعاع الدائرة هو 4 mc.</p> <p><input type="checkbox"/> خطأ <input type="checkbox"/> صحيح</p>	<p>9- ضع علامة (x) تحت الزاوية المنفرجة:</p>  <p><input type="checkbox"/> <input type="checkbox"/> <input type="checkbox"/></p>
<p>12-</p>  <p>مماثل الشكل A هو: <input type="checkbox"/> B <input type="checkbox"/> C</p>	<p>11-</p>  <p>المستطيل والمربع لهما نفس المساحة.</p> <p><input type="checkbox"/> خطأ <input type="checkbox"/> صحيح</p>

القياس: (13 نقطة)

<p>14- صهريج على شكل متوازي المستطيلات حجمه $30\,000 \text{ dm}^3$. لملئه حتى النصف سنحتاج كم من لتر من الماء. ضع علامة (x) في الخانة المناسبة:</p> <p>30000 l <input type="checkbox"/> 15000 l <input type="checkbox"/> 1500 l <input type="checkbox"/></p>	<p>13- صل بخط القياسات المتساوية:</p> <p>15 t • 75 m $7,5 \text{ mad}$ • 150 q 15 hm^2 • 75 dl $7,5 \text{ l}$ • 15 ha</p>
--	--

ⵜⴰⴳⴷⴰⵢⵜ ⵜⴰⴳⴷⴰⵢⵜ
ⵜⴰⴳⴷⴰⵢⵜ ⵜⴰⴳⴷⴰⵢⵜ ⵜⴰⴳⴷⴰⵢⵜ ⵜⴰⴳⴷⴰⵢⵜ
ⵜⴰⴳⴷⴰⵢⵜ ⵜⴰⴳⴷⴰⵢⵜ ⵜⴰⴳⴷⴰⵢⵜ ⵜⴰⴳⴷⴰⵢⵜ
ⵜⴰⴳⴷⴰⵢⵜ ⵜⴰⴳⴷⴰⵢⵜ ⵜⴰⴳⴷⴰⵢⵜ ⵜⴰⴳⴷⴰⵢⵜ



المملكة المغربية
وزارة للتربية الوطنية والتكوين المهني
والتعليم العالي والبحث العلمي
الأكاديمية الجهوية للتربية والتكوين لجهة الرباط مكناس
المديرية الإقليمية للتربية

الامتحان الاقليمي الموحد لنيل شهادة الدروس الابتدائية - دورة يونيو 2017 -

مدة الإنجاز: 2 h

مادة الرياضيات

الأجوبة والتنقيط

السؤال	الجواب	التنقيط
1	64,97	1,5
2	23,25	1,5
3	8,384	2
4	$64 \div 11$	2
5	—	2
6	—	2
7	 — — 0,3 — 4 — 1,5 	1 1 1
8	خطأ	2
9		2
10	صحيح	3
11	صحيح	3
12	B	3
13	 15 t — 75m 7,5 dam — 150 q 15 hm² — 75 dl 7,5 l — 15 ha 	2,5 2,5 2,5 2,5
14	15000 l	3