

إمضاء الولي

إمضاء الإدارة:

10

النقطة:

2 / أكتب بالأرقام :

6 وحدات و 5 عشرات .

4 عشرات .



1 / أصل بخط أو أكمل.

90

خمسة و ثلاثون

35

ثلاثة و خمسون

.....

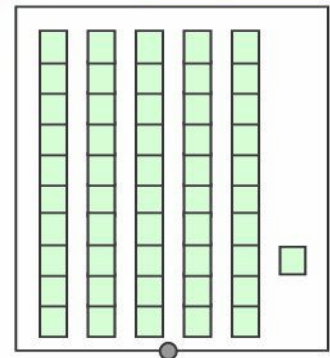
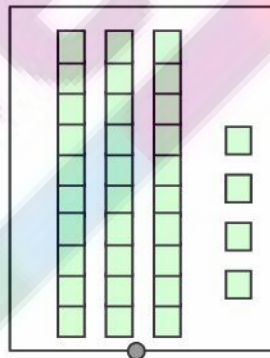
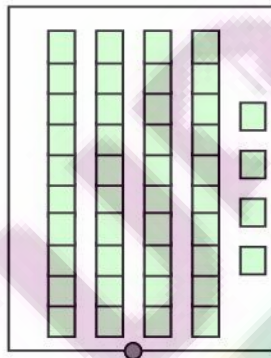
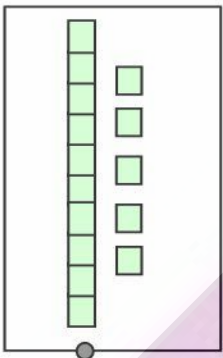
.....

53

اثنان و ثمانون

1.5

3 / أصل بخط



34

51

44

15

1

4 / أحسب :

$$50 + 3 = \dots\dots\dots$$

$$20 + 20 + 10 = \dots\dots\dots$$

$$30 + 30 = \dots\dots\dots$$

$$60 + \dots = 62$$



1

5 / أقرن باستعمال الرمز المناسب : < أو > أو =



20 54

99 35

60 + 8 68

82 28

6 / أرتب الأعداد التالية من الأصغر إلى الأكبر :

45 ; 6 ; 38 ; 13 ; 90

..... < < < <

7 / أنجز:

$$\begin{array}{r} 25 \\ + 15 \\ \hline \end{array}$$

$$\begin{array}{r} 54 \\ + 30 \\ \hline \end{array}$$

$$\begin{array}{r} 32 \\ + 12 \\ \hline \end{array}$$

.....

.....

.....

8 / أحسب المبلغ الذي يملكه كل طفل



أحمد



كريم

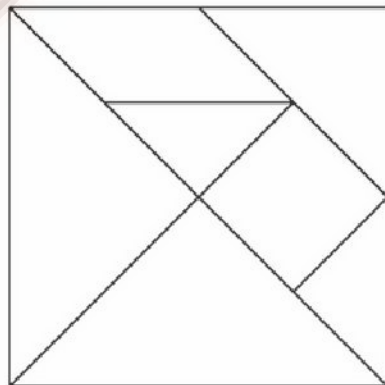


علي

من يستطيع شراء الحلوى؟



50 سنتيما



9 / ألون : المثلثات بالأحمر

المربع بالأزرق