

## الأسدوس الثاني



النشاط العلمي المادة

النقطة	الإدارة	الولي
10		

الاسم: .....

التاريخ: .....

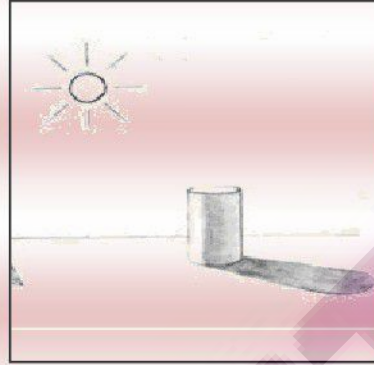
الفوج: .....

المستوى: الأولى ابتدائي

## 1 / أصل بسهم



حاجز




مصدر ضوئي

ظل

0.75

## 2 / أكتب: شفاف - نصف شفاف - معتم:



جسم .....



جسم .....



جسم .....


1.5


## 3 / أضع علامة (X) أمام الجمل الصحيحة:

- يوجد الحاجز بين المصدر الضوئي و الظل .
- الرمل جسم شفاف.
- الشمس مصدر ضوئي .
- الجسم الشفاف لا يسمح بالرؤية


2

## 4 / أضع علامة (X) تحت كل حيوان ولود.



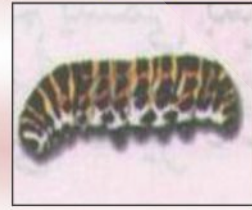







1

5 / أصل بخط



بيضة

حورية


أسروع

فراشة

6 / أرتب مراحل نمو التدرج بترقيمها من 1 إلى 5



7 / أصل كل حيوان بصغيره:



8 / أجيب ب: نعم أو لا

لأصبح صديقا للماء:

لا ألقى الأزبال في الماء .

أحافظ على الماء من التبذير .

أبحث عن الحيوانات الموجودة في الماء لأقتلها