

..... التاريخ : الفوج : الاسم العائلي والشخصي :

إمضاء الإدارة	إمضاء الأب أو الولي	النقطة

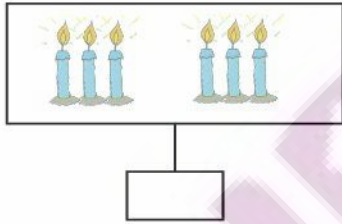
الأولى ابتدائي



أصل بخط:

اثنا عشر	<input type="radio"/>	<input type="radio"/>	4
ستة	<input type="radio"/>	<input type="radio"/>	6
أربعة	<input type="radio"/>	<input type="radio"/>	10
عشرة	<input type="radio"/>	<input type="radio"/>	12

أكتب عدد الشموع في كل بطاقة.







أشطب الأقراص الزائدة:



10

أستعمل لونين وأكمل المتساوية:

--	--	--	--	--	--	--	--

أقارن بوضع الرمز المناسب < أو > أو = مكان النقط.

*5.....2

* 1.....4

*4.....6

* 10+2.....12

أرتب الأعداد التالية من الأصغر إلى الأكبر


6

5 . 1 . 9 3 .

0.5

أصل بخط

0.75



أخف من البطيخة


أثقل من البطيخة

لها نفس ثقل البطيخة

البطة

ط بخط 7 دراهم

8




1



9 ألاحظ ثم أجيب:

9



* يملك علي :

* تملك هند :

1.5

أ- كم يملك علي من النقود؟

ب- كم تملك هند من النقود؟


 لا

 نعم

ج- ألون الجواب الصحيح:

* هند تملك أكبر مبلغ: