

الرياضيات

الأب أو الولي	الإدارة	الملاحظة
		10

المراقبة الثانية

الاسم:

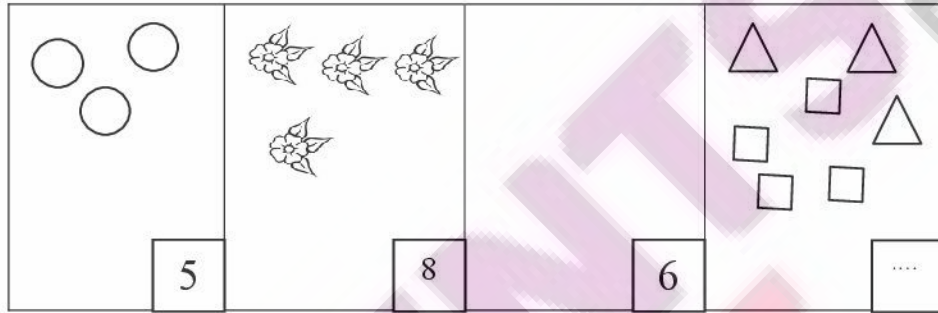
الفوج:

التاريخ:

المستوى: الأول ابتدائي

المرشد الأول

1/ أتمم الرسم أو أكتب العدد المناسب:



2

2/ أصل كل عدد بالكتابات الجمعية المناسبة له:

$$9 + 0$$

$$4 + 1$$

$$4 + 2$$

$$6 + 3$$

$$5$$

$$9$$

$$6$$

$$7 + 2$$

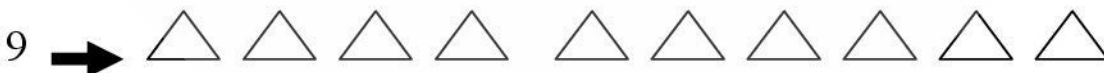
$$2 + 3$$

$$5 + 1$$

$$5 + 4$$

2

3/ ألون حسب العدد المكتوب:



1.5



4 / أكتب العدد المناسب مكان النقط:

$$\dots + \dots = 7$$

$$5 + \dots = 9$$

1.25

5/ أضع الرمز المناسب < أو > مكان النقط.

$$4 + 4 \dots 4 + 2$$

$$2 \dots 6$$


$$4 \dots 5$$

$$7 \dots 3 + 2$$

$$9 \dots 7$$

1.25

6/ قام أصدقاؤك باختيار مجموعة أطفال للمشاركة في سباق للجري. فحضرت السباق.



أ- اكتب:

عدد البنات:

عدد الأولاد:

2

ب- عدد الأطفال المشاركين في السباق:

ج- أيهم أكثر عددا؟

.....