

الأسدوس الثاني

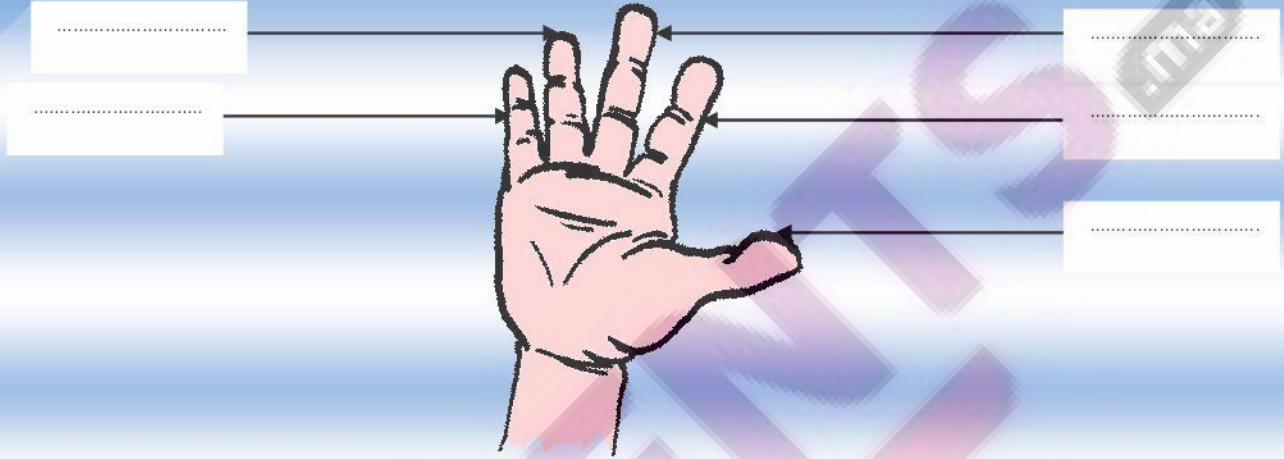


المادة النشاط العلمي

النقطة	الإدارة	الولي
10		




الاسم :
التاريخ :
الفوج :
المستوى الثاني ابتدائي

1 / أكتب الاسم المناسب أمام كل سهم : إبهام - سبابة - خنصر - وسطى - بنصر



1.25

2 / أكتب : يمشي - يقفز - يعوم - يزحف .



1

3 / أجب ب نعم أو لا :

<input type="checkbox"/>	- توجد باليد عدة مفاصل تساعد على مناولة الأشياء .
<input type="checkbox"/>	- الجناح عند الخفاش طرف أمامي يكسوه ريش .
<input type="checkbox"/>	- أثناء المشي تكون حركات الأطراف سريعة .
<input type="checkbox"/>	- الطرف الأمامي للطرسوح مجدافي يمكنه من العوم

2



4 / أملاً الفراغ بما يناسب : جلد - قدمه - مادة لزجة

- بحرك الحلزون فيزحف إلى الأمام .

- يترك الحلزون وراءه

- الجناح عند الخفاش طرف أمامي مغطى ب

5 / ألون الأعضاء المسؤولة عن التنقل :



6 / ألون البطاقة الصحيحة :



طرف خلفي مثنى

طرف خلفي منبسط

7 / أكتب : أقصر أو أطول

الطرف الخلفي للضفدعة من الطرف الأمامي.

8 / أصل بخط

الزحف

رجل البطة راحية تمكنها من

العوام

الخفاش حيوان مكيف على

الطيران

تمكن التموجات جسم الثعبان من