

## الأسدوس الأول

الولي	الإدارة	النقطة
		10

المادة: النشاط العلمي

الاسم: .....

التاريخ: .....

الفوج: .....

المستوى: الثالثة ابتدائي

أصل بخط.

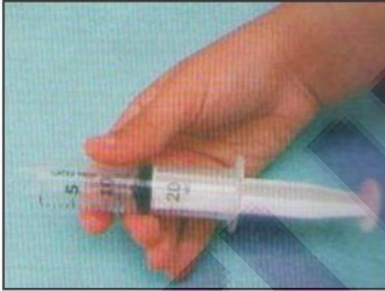
1

- مقص • زيت • الهواء • الحليب • الدقيق •
- جسم غازي • جسم صلب • جسم سائل •

1.5

الاحظ المناولة ثم أجب.

3




عندما أجذب مكبس المحقنة.  
ما هو الغاز الذي يملأ المحقنة ؟

.....

الاحظ ثم أكمل الجملة.

2



الاحظ أن الماء أخذ .....

1.5

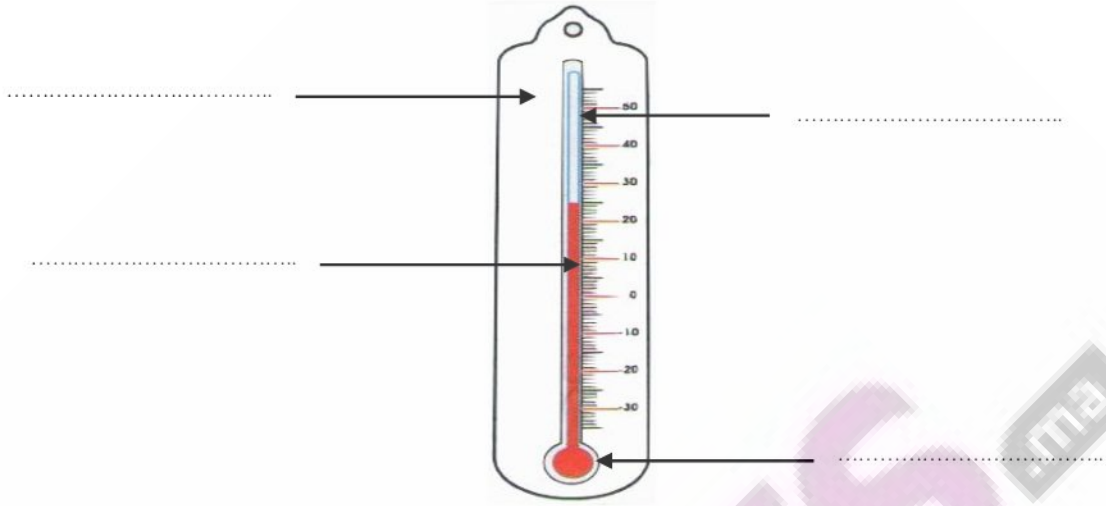
الاحظ ثم أكتب : نعم أو لا داخل كل بطاقة.

4

- الغاز قابل للانضغاط والتوسع.
- تأخذ السوائل شكل الإناء الذي توجد فيه.
- الغازات لا تنتشر.

1.5



5 أكتب الاسم المناسب أمام كل سهم: أنبوب - خزان - حامل - سائل



2

7 أكتب درجة الحرارة التي يشير إليها كل محرار.

7

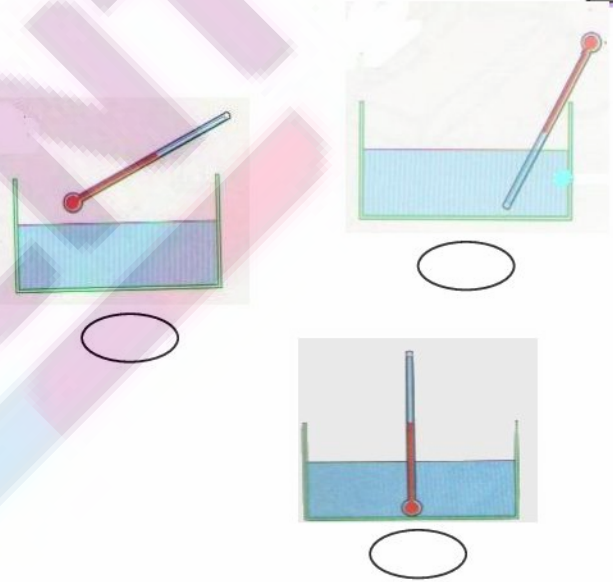


.....

.....

6 أضع علامة تحت الوضعية الصحيحة للصحة للمحرار.

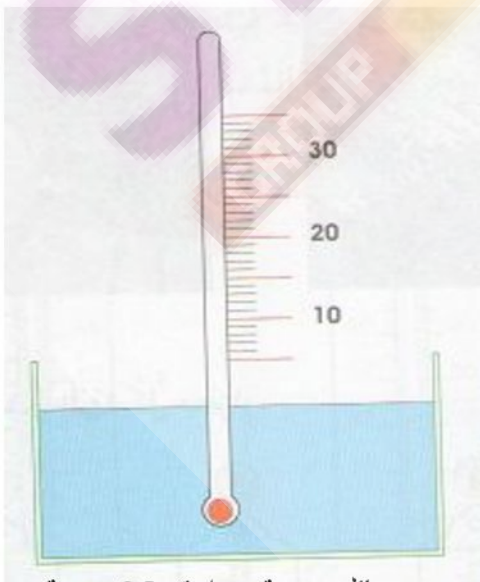
6



1.75

9 ألون السائل المحراري إلى المستوى المناسب.

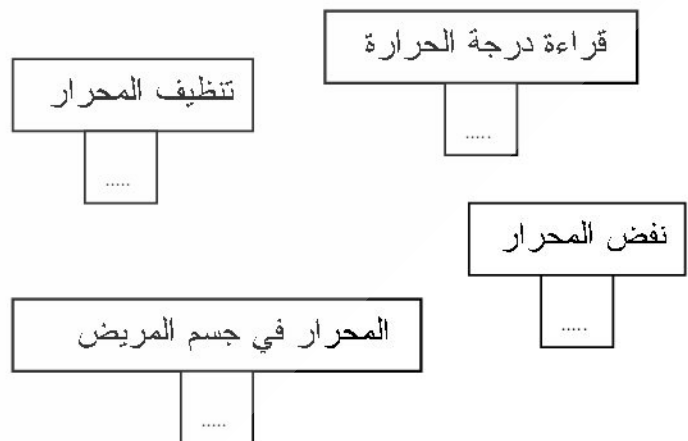
9



سائل درجة حرارته 25 درجة.

8 أرّتب مراحل استعمال المحرار الطبي بترقيمها من 1 إلى 4.

8



1.75