

الاسم العائلي والشخصي : التاريخ :

إمضاء الإدارة	إمضاء الأب أو الولي	النقطة
		10

الثالثة ابتدائي

أصل بخط:

1

1.5

سبعة آلاف ومئة وثلاثة وعشرون	<input type="radio"/>	3 540
3 آلاف 5 مئات و4 عشرات	<input type="radio"/>	7 123
تسعة آلاف وست مئة وإثنا عشر	<input type="radio"/>	4 301
أربعة آلاف وثلاث مئة واحد	<input type="radio"/>	9 612

أقارن بوضع الرمز المناسب : < أو > أو = مكان النقط:

2



986 1000

4 362 4 328

1000 + 400 + 50 + 2 1352

(2 x 1000) + 350 2350

1

أكمل:

3

1 000 + 7 =

..... + 400 + 20 + . = 6 429

8000 + 100 + 20 + 8 =

(. x) + (. x) + (. x) + . = 4 135

1

يمثل الجدول التالي عدد ممارسي بعض الرياضات :

4



عدد الممارسين	اسم الرياضة
6 000	كرة القدم
685	البيدو
3 200	كرة السلة
1 400	السباحة
2 120	الفروسية

حدد الرياضة التي يمارسها أكبر عدد :

1

رتب الأعداد من الأصغر إلى الأكبر باستعمال الرمز المناسب :

أضع و أنجز.

5

$400 - 236$

$986 - 145$

$2\ 307 + 241$

$1\ 215 + 456$

دخلت السيدة مريم محلا تجاريا لبيع الملابس ومعها 400 درهم. فلاحظت الأثمنة التالية:

6

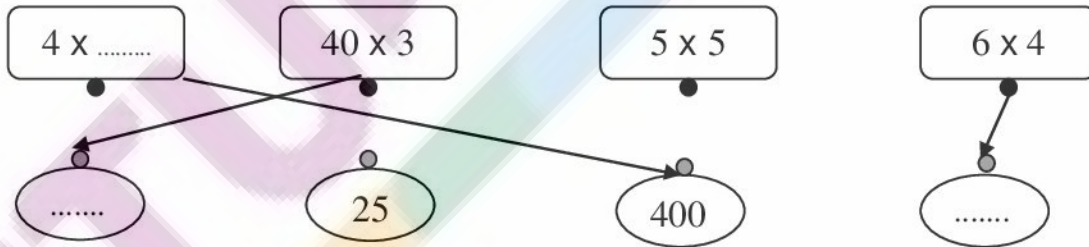
السلة	سروال	قبعة	قميص	معطف
الثمن بالدرهم	175 درهما	45 درهما	150 درهما	280 درهما

هل تستطيع السيدة مريم شراء السروال والقميص بالمبلغ المتوفر لديها ؟

1

أصل بخط أو أكمل.

7



أحول إلى الوحدة المطلوبة.

9

$1\text{m} = \dots\dots\dots \text{mm}$

$1\text{ m } 3\text{ dm} = \dots\dots\dots \text{dm}$

$126\text{ cm} = \dots\dots \text{m } \dots\dots \text{dm } \dots\dots \text{cm}$

$24\text{ dm} = \dots\dots\dots \text{cm}$

أضع علامة أمام الجواب الصحيح :

8

$1\text{m} = 100\text{ cm}$

$1\text{m} = 10\text{cm}$

رسم قطعة قياس طولها 6cm:

10

أرسم مستقيمين متعامدين.

11



0.5


الأحظ ما يقوله كل طفل.

12

الشكلان غير متماثلين



محمد



الشكلان متماثلان



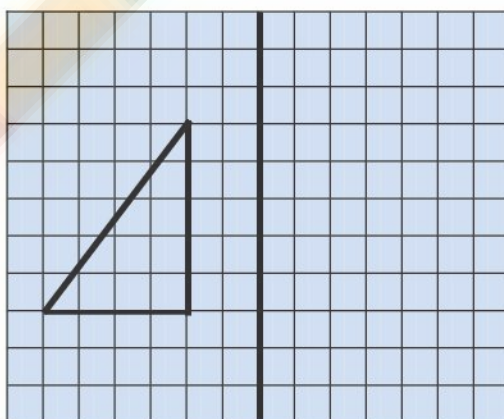
عمر

0.25

للمن منهما على صواب ؟

أرسم مماثل الشكل بالنسبة للمستقيم الأسود.

13



0.5