

\* 4 - ملعب مستطيل الشكل محيطه 300m وطوله يزيد عن عرضه بـ 40m احسب عرضه :

1 - أتمم باستعمال :

$$72\text{cm} = 0,72 \dots\dots$$

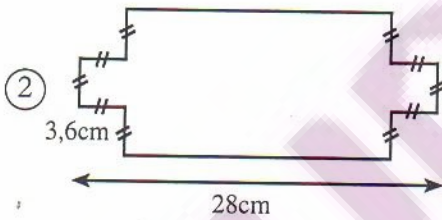
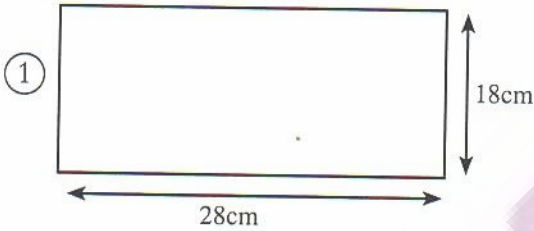
$$437\text{dm} = 4,37 \dots\dots$$

$$34\text{km} = 34000 \dots\dots$$

$$0,25\text{dam} = 250 \dots\dots$$

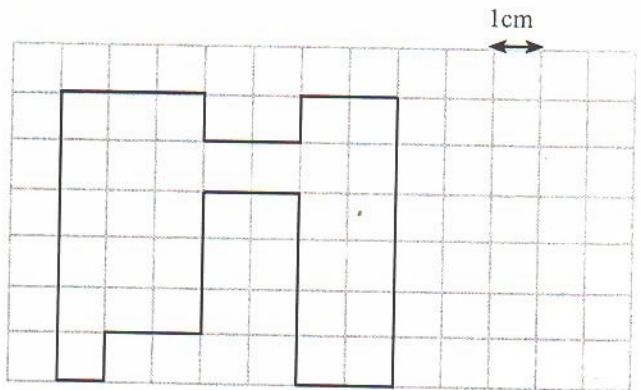
\* 5 - احسب محيط كل شكل ثم قارن محيطيهما.

2 - أتمم الجدول التالي :



المستطيل ③	المستطيل ②	المستطيل ①	
.....	4dm	5cm	الطول
6,25cm	..... cm	3cm	العرض
18,50cm	2dm	.....	المحيط

\* 3 - احسب محيط الشكل التالي :



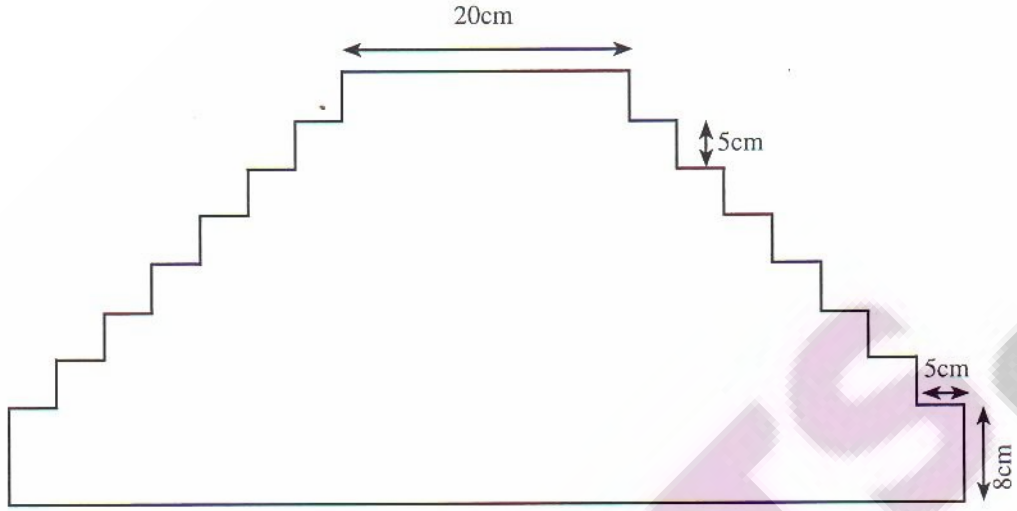
\* محيط الشكل ① هو :

\* محيط الشكل ② هو :

\* مقارنة محيطي الشكلين :

محيط الشكل هو :

\* 6 ما هو محيط الشكل بالسنتيمتر ثم بالمتري؟



\* 8 - أحاط فلاح قطعة أرضية على شكل مستطيل ثلاث

مرات بسلك مع ترك باب طوله خمسة أمتار. ما هو طول السلك إذا علمت أن الطول هو 240m وعرضها يقل عن طولها بـ 60m ؟

\* 7 - قطعة مربعة الشكل أحيطت بجائط من الآجور

والإسمنت، كلفت ما مجموعه 40000 درهم. احسب قياس ضلع القطعة الأرضية علما أن ثمن المتر الواحد من الإسمنت والآجور هو 250 درهم وأن أجره العمال بلغت 15000 درهم.